



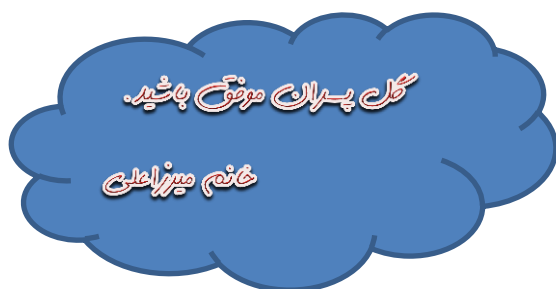




نام :		ریستان غیر دولتی ممتازان	رکب ۹۶۵۶
نام خانوادگی :		پایه چهارم :	ارزشیاب ریاضی :
۱-	الف) پسران گلم : جواب صحیح را علامت بزنیید ارزش بزرگترین رقم در عدد 586024 کدام است ؟ الف) (یکان هزار) <input type="radio"/> ب) (صدگان) <input type="radio"/> ج) (دهگان هزار) <input type="radio"/> د) (صدگان هزار) <input type="radio"/> کسر مساوی $\frac{36}{72}$ کدام است ؟ الف) $\frac{1}{2}$ <input type="radio"/> ب) $\frac{4}{8}$ <input type="radio"/> ج) $\frac{6}{9}$ <input type="radio"/> د) (گزینه های الف و ب) <input type="radio"/> مقسوم علیه تقسیمی عدد ۸ می باشد. باقی مانده کدام عدد نمی تواند باشد ؟ الف) ۳ <input type="radio"/> ب) ۶ <input type="radio"/> ج) ۸ <input type="radio"/> د) ۰ <input type="radio"/>		
۲-	ب) جاهای خالی را با کلمات و اعداد مناسب کامل کنید. یک تُن برابر کیلوگرم است. به جواب تقسیم گفته می شود. $\frac{1}{3}$ یعنی همان سی هزار تا هزار تا است.		
۳-	ج) درستی یا نادرستی عبارات زیر را مشخص کنید. $\frac{4}{7}$ یعنی ۲ تا $\frac{2}{7}$ <input type="radio"/> عدد ۴۹ بر ۳ بخش پذیر است <input type="radio"/>		
۴-	د) با دقت به سوالات زیر پاسخ دهید. الگوی عددی زیر را ادامه دهید و رابطه بین اعداد را توضیح دهید. رابطه : 3 → 6 → 18 → ---- → ----		
۵-	با توجه به عدد 16085493 به سوالات زیر پاسخ دهید. الف) عدد را به حروف بنویسید. ب) ارزش مکانی کوچک ترین رقم را بنویسید. ج) رقم ۶ در چه مرتبه ای قرار دارد؟		

	<p>حاصل عبارتهای زیر را بدست آورید.</p> $\frac{4}{5} - \frac{2}{5} =$ $\frac{3}{6} + \frac{2}{12} =$ $6 \times \frac{7}{100} =$ $2 \times \frac{1}{5} + 3 \times \frac{1}{15} =$	-۶
	<p>برای کسر و عدد مخلوط داده شده شکل بکشید.</p> $\frac{3}{5}$ $3\frac{2}{4}$	-۷
	<p>حاصل جمع و تفریق زیر را با کمک محور بدست آورید.</p> $\frac{3}{9} + \frac{5}{9} =$  $\frac{5}{7} - \frac{2}{7} =$ 	-۸
	<p>با توجه به کاری که هر ماشین انجام می دهد. عدد های خروجی را پیدا کنید و بنویسید.</p> $5 \xrightarrow{\quad} \xrightarrow{\quad} \boxed{\quad}$ $9 \xrightarrow{\times 7} \xrightarrow{-3} \boxed{\quad}$	-۹
	<p>اعداد زیر را با هم مقایسه کنید.</p> $38560 \bigcirc 38650$ $520053 \bigcirc 53802$ $\frac{2}{5} \bigcirc \frac{3}{15}$ $\frac{2}{4} \bigcirc \frac{2}{3}$	-۱۰
	<p>الف) ساعت یک و $\frac{1}{5}$ ساعت یعنی چند دقیقه ؟ ب) دو کسر مساوی با $\frac{9}{12}$ بنویسید؟</p>	-۱۱
	<p>در یک مزرعه کاهو ، ۴۶ ردیف کاهو کاشته شده است و در هر ردیف ۶۳ کاهو قرار گرفته است. این مزرعه به طور تقریبی چند کاهو دارد؟</p> 	-۱۲
	<p>نقاشی $\frac{9}{12}$ اتاقی را رنگ کرده است . او $\frac{3}{12}$ از این اتاق آبی ، $\frac{2}{12}$ آنرا قرمز و بقیه را زرد رنگ کرده است. چه کسری از اتاق قرمز و آبی رنگ شده است ؟ چه کسری به رنگ زرد در آمده است؟</p>	-۱۳
	<p>یک کشاورز ۹۵۰ کیلوگرم محصول را بطور مساوی در ۱۹ کیسه ریخته است . در هر کیسه چند کیلوگرم برنج ریخته است؟</p> 	۱۳

	<p>زهرا ۱۱ سال دارد سن مادر زهرا از ۳ برابر سن او ۶ سال بیش تر است . مادر زهرا چند سال دارد؟</p>	۱۴
$\begin{array}{r} ۳۰۴ \\ \times ۴۳ \\ \hline \end{array}$	<p>حاصل ضرب های زیر را به روش های خواسته شده حساب کنید. (مساحتی)</p> $\begin{array}{r l} ۱۸ & \\ \times ۱۳ & \\ \hline \end{array}$ <p>تکنیکی</p>	۱۵
$\begin{array}{r} ۴۶۳ \\ \overline{) ۹} \end{array}$	<p>تقسیم های زیر را انجام دهید و سپس رابطه درستی آن ها را بنویسید.</p> $\begin{array}{r} ۳۴۵۶ \\ \overline{) ۷۸} \end{array}$	۱۶



..... باز خورد معلم :

..... نظر والدین گرامی :